

QUEL EST TON REGIME ?

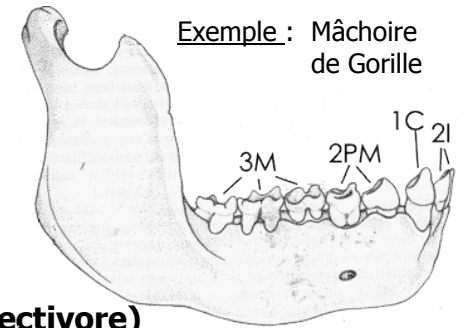
Galerie Taxidermie




Parmi les crânes proposés dans les vitrines :

1-Retrouve à quel animal peut appartenir chaque mâchoire et inscrit son nom dans le tableau

**2-Indique le type de dent et leur nombre. Voici leur rôle : incisives = coupent ;
canines = déchiquètent ; molaires (et prémolaires) = broient ; dents coniques = pincent.**

3-Imagine le régime alimentaire de ces 3 animaux (omnivore, carnivore, rongeur, herbivore, insectivore)



Crâne	Description de sa dentition incisives (I), canines (C), molaires et prémolaires (M et PM), dents coniques (DC)	Hypothèse sur le régime alimentaire
 <p>Nom :</p>	<p>I :</p> <p>C :</p> <p>M et PM :</p> <p>DC :</p>	
 <p>Nom :</p>	<p>I :</p> <p>C :</p> <p>M et PM :</p> <p>DC :</p>	
 <p>Nom :</p>	<p>I :</p> <p>C :</p> <p>M et PM :</p> <p>DC :</p>	