








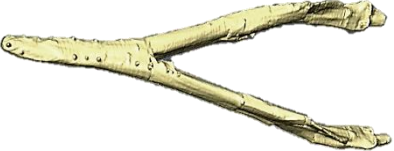


# Une classification pour les animaux actuels et fossiles

ACTUELS			FOSSILES
 Escargot •  Nautilus •  Coquille saint jacques •	<p style="text-align: center;"><b>Mollusques</b> : corps mou</p> <ul style="list-style-type: none"> <li>• un <b>céphalopode</b> (la tête est munie de tentacules)</li> <li>• un <b>gastéropode</b> (la coquille est torsadée)</li> <li>• un <b>bivalve</b> (la coquille est en 2 parties)</li> </ul>	<p>À quel groupe appartient ce fossile ?</p> <input data-bbox="1153 454 1579 518" type="text"/> <p>Quand a t'il vécu ?</p> <input data-bbox="1153 582 1579 646" type="text"/>	 <p>Son nom : <input data-bbox="1780 566 2116 630" type="text"/></p>
 Libellule •  Crabe •  Araignée •	<p style="text-align: center;"><b>Arthropodes</b> : pattes articulées</p> <ul style="list-style-type: none"> <li>• Un <b>insecte</b> qui possède ..... pattes et ..... antennes</li> <li>• Un <b>crustacé</b> qui possède ..... pattes</li> <li>• Un <b>arachnide</b> qui possède ..... pattes</li> </ul>	<p>Ce fossile n'appartient à aucun des groupes ci-contre.</p> <p>À quelle époque a-t-il vécu ? (Chiffre aussi ta réponse)</p> <input data-bbox="1153 997 1601 1093" type="text"/>	 <p>Son nom : <input data-bbox="1780 1005 2116 1069" type="text"/></p>
<p>Les requins sont des <b>poissons</b> dont le squelette est <b>cartilagineux</b>. On ne retrouve que leurs dents une fois morts.</p>  Requin	<p>Retrouve et dessine la plus <b>grosse dent de requin</b> exposée dans le muséum (elle appartient à un groupe éteint)</p> <input data-bbox="817 1252 1086 1484" type="text"/>	<p style="text-align: center;"><b>Vertébrés</b></p> <p>Voici une pièce retrouvée du <b>plésiosaure</b> du muséum. Il s'agit d'un « reptile » marin fossile.</p> <p>Penses-tu que son squelette est cartilagineux ou osseux ?</p>	 <p>Nom de la partie ci-dessus retrouvée dans le tuffeau :</p> <input data-bbox="1758 1380 2116 1476" type="text"/>

# S'initier à la classification



Tous les animaux présentés ici appartiennent au groupe des primates. Ils ont donc un lien de parenté...

1°. **Retrouve** à quel être vivant appartient chaque détail photographié. **Note son nom** en dessous.

1



.....  
.....

2



.....  
.....

3



.....  
.....

4



.....  
.....

5



.....  
.....

6



.....  
.....

7



.....  
.....

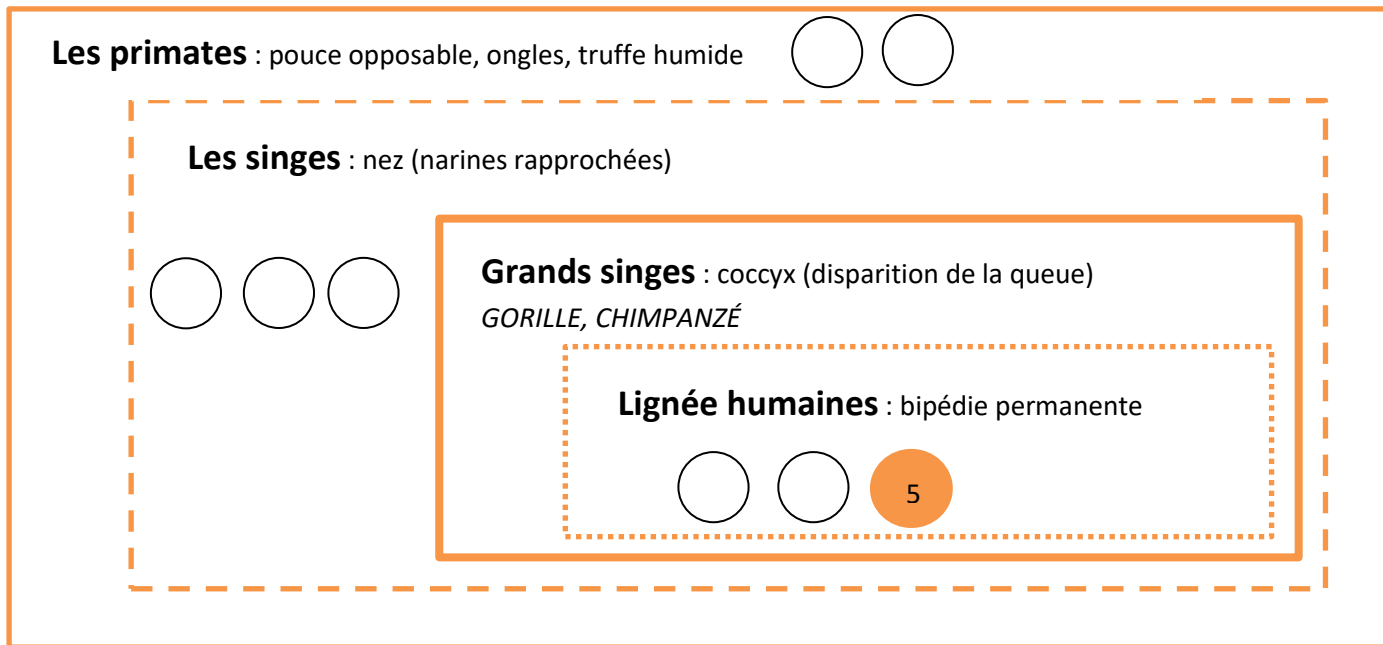
8



.....  
.....

2°. Mais de quel être vivant observé l'Homme est-il le plus proche et le plus éloigné ? Observe les groupes dessinés au sol, lis les renseignements indiqués sur les cartels

puis, **replaces le numéro** de chaque être vivant dans les boîtes ci-contre pour le savoir.



👉 Groupes emboîtés